




Informační středisko EUROPE DIRECT Jihlava
vydává sešit plný zábavy a informací

EVROPSKÁ UNIE HROU



Tato brožura je financována Evropskou unií

1 | Evropská nej...



Vyber ze tří možností správnou odpověď a písmenko správné odpovědi zapiš do kolonek.

1. **Nejvyšší hora Evropy, která měří 4 810 m:**
 - n) Mont Blanc
 - o) Monte Rosa
 - c) Matterhorn
2. **Největší poloostrov Evropy s rozlohou 774 000 km²:**
 - a) Pyrenejský poloostrov
 - e) Skandinávský poloostrov
 - k) Balkánský poloostrov
3. **Nejvyšší sopka Evropy, která měří 3 329 m:**
 - j) Etna na Sicílii
 - b) Hekla na Islandu
 - x) Vesuv v Itálii
4. **Nevětší jezero Evropy s rozlohou 18 130 km²:**
 - u) jezero Vänern ve Švédsku
 - f) jezero Saimaa ve Finsku
 - z) Ladožské jezero v Rusku
5. **Nejdější řeka Evropy, která měří 3 534 m:**
 - a) Volha
 - j) Dunaj
 - i) Rýn
6. **Nejnižší místo Evropy (-28 m):**
 - h) Černomořská nížina na Ukrajině
 - j) Kaspická nížina v Rusku
 - e) Baltská nížina (území baltských států)
7. **Největší ostrov Evropy**
 - í) Velká Británie
 - á) Island
 - ý) Irsko
8. **Nejlidnatější město Evropy:**
 - k) Istanbul
 - v) Londýn
 - m) Moskva
9. **Největší stát Evropy:**
 - a) Rusko
 - b) Turecko
 - p) Španělsko
10. **Nejmenší stát Evropy:**
 - y) Andorra
 - v) Vatikán
 - o) Lichtenštejnsko
11. **Největší přístav Evropy:**
 - o) Rotterdam
 - t) Antverpy
 - c) Hamburk

12. **Nevyšší budova v Evropě, která měří 339 m:**
 - s) Mercury City Tower v Moskvě
 - w) Shard London Bridge v Londýně
 - d) Commerzbank Tower ve Frankfurtu
13. **Nejsevernější pevninský bod v Evropě:**
 - r) mys Kanin Nos v Rusku
 - i) mys Båkkudden ve Švédsku
 - t) mys Nordkinn v Norsku
14. **Nejižnější pevninský bod v Evropě:**
 - i) mys Punta Martoqui ve Španělsku
 - u) mys Roca v Portugalsku
 - e) mys Spartivento v Itálii
15. **Největší pevninský ledovec Evropy, který má rozlohu 487 km²:**
 - z) ledovec Aletschgletscher ve Švýcarsku
 - e) ledovec Jostedalbreen v Norsku
 - r) Marmoladský ledovec v Itálii
16. **Nejdější železniční tunel v Evropě a zároveň na světě, který je dlouhý 57 km:**
 - v) Gotthardský úpatní tunel ve Švýcarsku
 - m) Eurotunnel (Francie – Velká Británie)
 - d) tunel Guadarrama ve Španělsku
17. **Nejdější silniční tunel v Evropě a zároveň na světě, který měří 24,5 km:**
 - g) tunel Arlberg v Rakousku
 - b) tunel Frejus (Francie – Itálie)
 - r) Lærdalský tunel v Norsku
18. **Největší letiště Evropy dle počtu přepravených pasažérů:**
 - o) Letiště Heathrow v Londýně
 - h) letiště Charles de Gaulle v Paříži
 - f) letiště Bajasas v Madridu
19. **Nejdější most Evropy, který měří 17 185 m:**
 - p) Most Vasco de Gama v Portugalsku,
 - l) Nový Uljanovský most v Rusku
 - a) Most Öland ve Švédsku
20. **Nejstarší univerzita Evropy, která byla založena v roce 1088:**
 - n) Oxfordská univerzita
 - y) Boloňská univerzita
 - w) Univerzita Karlova

Doplňte správné odpovědi:

1	2	3	4	5	6	7	8	9	10
11	12	13	14	15	16	17	18	19	20

2 | Evropská kuchyně




Přiřaď správný pokrm ze seznamu k jeho popisu.

1. Jak se jmenuje tradiční zapékané jídlo připravené z brambor, zeleniny a mletého masa typické zejména pro balkánské země?
2. Jak se jmenuje slavná hustá rybí polévka se šafránem, které pochází z Marseille?
3. Jak se nazývají francouzské slané koláče zapečené se smetanou, sýrem, masem, lososem apod.
4. Jak se jmenuje slavný italský dezert z piškotů se sýrem mascarpone, kávou, smetanou a cukrem?
5. Jak se jmenuje tradiční německý pokrm z jednoho hrnce, jehož základem je velmi hustá zeleninová polévka, do které se přidává maso, klobásy atd.
6. Jak se jmenuje rakouský čokoládový dort, který vymyslel teprve šestnáctiletý kuchař Franz Sacher?
7. Jak se jmenuje typický řecký pokrm, při kterém se maso opéká na grilu a poté se ořezává a vkládá do housky se zeleninou?
8. Jak se jmenuje slovenský měkký solený hrudkovitý ovčí sýr, který je součástí tradičního pokrmu halušky?
9. Jak se jmenuje typický pokrm pro Spojené království skládající se ze smažené obalované ryby a hranolek s octem?
10. Jak se jmenuje španělská studená polévka z drcených rajčat, olivového oleje, okurky, papriky a octa?

MOŽNOSTI: gyros, musaka, eintopf, bouillabaise, gaspacho, Sachrův dort, brynza, tiramisu, fish and chips, quiche


3 | Symboly EU



Odpověz na otázky týkající se symbolů Evropské unie a správně vybarvi vlajku EU.

1. VLAJKA EU

Dvanáct hvězd v kruhu symbolizuje ideál jednoty, solidarity a harmonie mezi národy Evropy. Vybarvi správně vlajku EU.



2. EVROPSKÁ HYMNA

Melodie hymny je převzata z Deváté symfonie Ludwiga van Beethovena, kterou složil v roce 1823. Jaký je název skladby, která se stala hymnou EU?

.....

3. DEN EVROPY

Myšlenky, ze kterých vzešla Evropská unie, byly poprvé prezentovány francouzským ministrem zahraničí Robertem Schumanem v roce 1950. Jaký den slavíme Den Evropy?

.....

4. MOTTO EU

Vyjadřuje společné odhodlání Evropanů, kteří prostřednictvím EU usilují o mír a prosperitu a zároveň jsou obohacováni různými kulturami, tradicemi a jazyky tohoto kontinentu. Jaké je motto Evropské unie?

.....

4 | Jazyky v EU




Přelož slovní spojení a správně spoj s příslušným jazykem.


1. I love you a) chorvatština
2. Ma armastan sind b) maďarština
3. Volim te c) slovenština
4. Táim i ngrá leat d) litevština
5. Aš tave myliu e) estonština
6. Szeretlek f) slovinština
7. Ik hou van jou g) polština
8. Kocham cię h) irština
9. Lúbim Ťa i) španělština
10. Ljubim te j) angličtina
11. Te quiero k) nizozemština
12. Jag älskar dig l) švédština



1. Hello, Goodbye a) maltština
2. Hej, Farvel b) španělština
3. Hei, Näkemiin c) dánština
4. Bonjour, Au revoir d) italština
5. Ciao, Arrivederci e) angličtina
6. Sveiki, Ardievas f) němčina
7. Hello, Addiju g) portugalsština
8. Hallo, auf Wiedersehen h) francouzština
9. Cześć, Do widzenia i) rumunština
10. Olá, Adeus j) lotyština
11. Hola, Adiós k) polština
12. Buna ziua, La revedere l) finština











5 | Měna Euro



Spoj obrázky eurobankovek a architektonických slohů, které k sobě patří.

1.  a) Gotika
..... b) Antika
..... c) Moderní architektura
2.  d) Renesance
..... e) Baroko a rokoko
..... f) Románský sloh
3.  g) Secese
4. 
5. 
6. 
7. 

Spoj eurominci a stát, ke kterému patří.

1.  a) Slovensko,
..... b) Řecko,
..... c) Portugalsko,
2.  d) Německo,
..... e) Malta,
3.  f) Itálie,
..... g) Francie,
..... h) Finsko
4. 
5. 
6. 
7. 
8. 



6 | Instituce EU




Podle popisu pozněj, o jakou evropskou instituci ze seznamu se jedná.

1. Tato instituce je nejvyšším politickým orgánem EU a skládá se z prezidentů a/nebo předsedů vlád všech členských států EU a předsedy Evropské komise. Určuje obecné politické směřování EU a činí zásadní rozhodnutí v klíčových otázkách.
2. Tento orgán se také nazývá „Rada ministrů“ a je složena z ministrů vlád členských států EU. Hlavní náplní práce je schvalování právních předpisů EU.
3. Tento volený orgán zastupuje občany EU a společně s Radou sdílí legislativní a rozpočtovou pravomoc. Poslanci tohoto orgánu jsou voleni v přímých všeobecných volbách, které se konají každých 5 let.
4. Jde o hlavní výkonný orgán, který zastupuje společné zájmy EU. Navrhuje a vypracovává nové právní předpisy a stará se o řádné uplatňování politik EU. Její členové jsou jmenováni na 5 let na základě dohody mezi členskými státy.
5. Tato instituce sídlí v Lucemburku a skládá se z jednoho soudce z každé členské země a z devíti generálních advokátů. Hlavním úkolem je zajistit dodržování právních předpisů EU a správný výklad Smluv a jejich uplatňování.
6. Tato instituce se sídlem ve Frankfurtu nad Mohanem a nese odpovědnost za správu eura a za měnovou politiku EU. Hlavními úkoly jsou udržování cenové stability a dohled nad bankami v eurozóně.
7. Tato instituce má sídlo v Lucemburku a každá země v ní má jednoho zástupce jmenovaného na 6 let. Kontroluje, zda byly veškeré příjmy a výdaje EU získány a vynaloženy řádným způsobem a zda je dobře spravován rozpočet EU.

MOŽNOSTI: Evropská centrální banka, Rada, Soudní dvůr, Evropská rada, Účetní dvůr, Evropská komise, Evropský parlament

7 | Vývoj EU



Chronologicky seřad' události a doplň letopočty.

- | | |
|--|--|
| a) Bulharsko a Rumunsko se staly členy Evropské unie, která dohromady tvoří již 27 států. | h) Vznikl jednotný evropský trh. |
| b) Země ESUO podepsaly Římské smlouvy a založily Evropské hospodářské společenství (EHS) a Evropské společenství pro atomovou energii (Euratom). | i) Nejrozsáhlejší rozšíření Evropské unie o deset nových států – Česká republika, Maďarsko, Polsko, Slovensko, Estonsko, Litva, Lotyšsko, Slovinsko, Malta a Kypr. |
| c) Společenství se rozšířilo o další tři členy – Dánsko, Irsko, Velká Británie. | j) Na základě podepsání Maastrichtské smlouvy vzniká Evropská unie (EU). |
| d) Do oběhu byla uvedena jednotná evropská měna Euro a vznikla „eurozóna“. | k) V platnost vstoupila Lisabonská smlouva a výrazně mění fungování EU. |
| e) Uskutečnění prvních přímých a všeobecných voleb do Evropského parlamentu. | l) Do Evropské unie přistoupily další tři nové státy – Finsko, Rakousko a Švédsko. |
| f) Společenství se opět rozšířilo, nově přistoupilo Španělsko a Portugalsko. | m) Do Evropské unie přistoupil prozatím poslední členský stát – Chorvatsko a celkový počet členských států EU je 28. |
| g) Šest států (Belgie, Francie, Itálie, Lucembursko, Nizozemí a Spolková | n) Řecko vstoupilo do Evropské unie. |

Doplňte správné odpovědi:

1	2	3	4	5	6	7
g) 1951						
11	12	13	14	15	16	17

8 | Známé osobnosti



Podle popisu pozněj, o jakou známou osobnost se jedná.

(Jako nápověda jsou uvedena počáteční písmena křestního jména a příjmení dané osobnosti.)

1. Jak se jmenuje český malíř a designér období Art Nouveau, který se narodil v roce 1860 v Ivančicích. Jeho životním dílem je cyklus velkoformátových pláten Slovanská epopej.

A. M.

2. Jak se jmenuje jeden z nejvýznamnějších hudebních skladatelů narozený v Nelahozevsi. Napsal celkem devět symfonií, dále složil Slovanské tance. Mezi jeho nejznámější díla patří také opery – Rusalka, Jakobín, Čert a Káča či Dimitrij a Armida.

A. D.

3. Jaké je jméno dánského spisovatele, který se proslavil zejména psaním pohádek – Princezna na hrášku, Ošklivé káčátko, Císařovi nové šaty, Statečný cínový vojáček či Malá mořská víla.

H. Ch. A.

4. Jméno německého spisovatele, který žil v letech 1749 až 1832. Mezi jeho známá díla patří například dvoudílná dramatická báseň Faust, Prométheus či román Utrpení mladého Werthera.

J. W. G.

5. Jak se jmenuje španělský malíř a sochař, který se narodil v Málaze a je považován za zakladatele kubismu. Pro jeho tvorbu je známé například modré či růžové období.

P. P.

6. Jak se jmenuje bývalý francouzský fotbalový útočník a reprezentant, který hrál naposled za klub severoamerické MLS New York Red Bulls.

T. H.

7. Jak se jmenuje renesanční italský malíř, který namaloval celosvětově známý obraz Mona Lisa.

L. da V.

8. Jak se jmenuje benátský kupec a cestovatel, který se proslavil svými cestami po Číně a byl zároveň prvním Evropanem, který podrobněji prozkoumal východní Asii.

M. P.

9. Jak se jmenuje maďarský kouzelník a iluzionista, kterému se přezdívalo „mistr úniku“?

H. H.

10. Jaké je jméno maďarského vynálezce, který vytvořil známé mechanické hlavolamy – Rubikovu kostku či Rubikova hada?

E. R.

11. Jak se jmenuje jeden z nejznámějších nizozemských malířů, který si údajně uřízl kus levého ucha.

V. van G.

12. Jak se jmenuje rakouský lékař a psycholog a zakladatel psychoanalýzy, dle kterého se lidská psychika skládá ze tří částí – vědomí, předvědomí a nevědomí.

S. F.

13. Jak se jmenuje významná vědkyně polského původu, která se věnovala výzkumu v oblasti chemie a fyziky a mezi její nejvýznamnější objevy patří teorie radioaktivity či objev dvou nových chemických prvků radia a polonia.

M. C.

14. Jak se jmenuje portugalský mořeplavec a objevitel, který podnikl tři cesty do Indie.

V. de G.

15. Jak se jmenuje švédský chemik, který vynalezl dynamit a na základě jeho závěti jsou každoročně udělovány Nobelovy ceny.

A. N.

16. Jak se jmenuje anglický básník a dramatik, mezi jehož nejznámější díla patří například komedie Sen noci svatojánské, Kupec benátský či tragédie Romeo a Julie či Hamlet.


V. S.

9 | Památky EU



Poznej o jakou evropskou památku se jedná, její název doplň do křížovky a rozlušti tajenku.

1. Slavná gotická katedrála na řece Seině v Paříži, která se také proslavila díky knize Victora Huga Chrám matky Boží v Paříži.
2. Tato gotická katedrála je neznámějším chrámem v České republice a nejvyšším kostelem v Praze.
3. Tuto secesní katedrálu začal stavět barcelonský architekt Gaudí a od jeho smrti je stále dostavována.
4. Tento londýnský visutý zvedací most přes řeku Temži byl otevřen v roce 1894.
5. Toto město bylo uničeno výbuchem sopky Vesuv v roce 79 n.l.
6. Tuto městskou bránu dal v období 1788 – 1791 postavit císař Friedrich Wilhelm II. A dnes je symbolem svobody a jednoty Berlína.
7. Tato socha se nachází na skále v Langelinie v kodaňském přístavu a za svou slávu vděčí Hansi Christianu Andersenovi a jeho stejnojmenné pohádce.
8. Tento nejstarší zábavní park na světě se nachází ve velkém veřejném parku v centru Vídně.
9. Tato bruselská stavba z roku 1958 měří 102 metrů a představuje zvětšený model krystalové mřížky železa tvořený devíti atomy.
10. Tato historická vesnice, patří k nejpobulárnějším místům v Nizozemsku a je známá díky svým rybářským lodím a tradičním holandským krojům.
11. Tato katedrála ze 13. století je považována za největší v Pobaltí, nachází se v Lotyšsku a známá je také svými varhany.
12. Tento chrám je zasvěcený řecké bohyni Aténě a byl postaven v 5. století př.n.l. na aténské Akropoli.



10 | Státy EU



Ke každému státu Evropské unie napiš správně jeho hlavní město a přiřaď vlajku.

- | | | | |
|--------------------|-------------|--------------------|-------|
| 1. Rakousko | Viedeň, bb) | 15. Itálie | |
| 2. Belgie | | 16. Lotyšsko | |
| 3. Bulharsko | | 17. Litva | |
| 4. Kypr | | 18. Lucembursko | |
| 5. Chorvatsko | | 19. Malta | |
| 6. Česká republika | | 20. Nizozemí | |
| 7. Dánsko | | 21. Polsko | |
| 8. Estonsko | | 22. Portugalsko | |
| 9. Finsko | | 23. Rumunsko | |
| 10. Francie | | 24. Slovensko | |
| 11. Německo | | 25. Slovinsko | |
| 12. Řecko | | 26. Španělsko | |
| 13. Maďarsko | | 27. Švédsko | |
| 14. Irsko | | 28. Velká Británie | |

MOŽNOSTI: Bratislava, Vilnius, Amsterdam, Valetta, Bukurešť, Viedeň, Řím, Dublin, Nikósie, Lisabon, Londýn, Záhřeb, Brusel, Varšava, Madrid, Lucemburk, Praha, Budapešť, Paříž, Sofia, Atény, Stockholm, Riga, Kodaň, Berlín, Helsinky, Talinn, Lublaň



a) 	h) 	o) 	v) 
b) 	i) 	p) 	w) 
c) 	j) 	q) 	x) 
d) 	k) 	r) 	y) 
e) 	l) 	s) 	z) 
f) 	m) 	t) 	aa) 
g) 	n) 	u) 	bb) 

Správná řešení:

- EVROPSKÁ NEJ:
1 n; 2 e; 3 j; 4 z; 5 a; 6 j; 7 í; 8 m; 9 a; 10 v; 11 o; 12 s; 13 t; 14 i; 15 e; 16 v; 17 r; 18 o; 19 p; 20 y
řešení: NEJ ZAJÍMAVOSTI EVROPY
- EVROPSKÁ KUCHYNĚ:
1) musaka; 2) bouillabaisse; 3) quiche; 4) tiramisu; 5) eintopf; 6) Sachrův dort; 7) gyros; 8) brynza;
9) fish enad chips; 10) gaspacho
- SYMBOLY EU:
1) modrý podklad a žluté hvězdy; 2) Óda na radost; 3) 9. května, 4) Jednotná v rozmanitosti
- JAZYKY V EU:
překlad = *mám tě rád, miluji tě*
1 j; 2 e; 3 a; 4 h; 5 d; 6 b; 7 k; 8 g; 9 c; 10 f; 11 i; 12 l

překlad = *dobrý den, nashledanou*
1 e; 2 c; 3 l; 4 h; 5 d; 6 j; 7 a; 8 f; 9 k; 10 g; 11 b; 12 i
- MĚNA EURO:
Eurobankovky: 1 b; 2 f; 3 a; 4 d; 5 e; 6 g; 7 c
Euromince: 1 g; 2 b; 3 e; 4 f; 5 d; 6 a; 7 h; 8 c
- INSTITUCE EU:
1) Evropská rada; 2) Rada; 3) Evropský parlament; 4) Evropská komise; 5) Soudní dvůr; 6) Evropská centrální banka; 7) Účetní dvůr
- VÝVOJ EU:
1. g) 1951; 2. b) 1957; 3. c) 1973; 4. e) 1979; 5. n) 1981; 6. f) 1986; 7. h) 1992; 8. j) 1993; 9. l) 1995;
10. d) 2002; 11. i) 2004; 12. a) 2007; 13. k) 2009; 14. m) 2013
- ZNÁMÉ OSOBNOSTI EU:
1) Alfons Mucha; 2) Antonín Dvořák; 3) Hans Christian Andersen; 4) Johann Wolfgang Goethe;
5) Pablo Picasso; 6) Thierry Henry; 7) Leonardo da Vinci; 8) Marco Polo; 9) Harry Houdini; 10) Ernő Rubik;
11) Vincent van Gogh; 12) Sigmund Freud; 13) Marie Curie; 14) Vasco de Gama; 15) Alfred Nobel;
16) Wiliam Shakespear
- PAMÁTKY EU:
1) Notre Dame; 2) Katedrála sv. Víta; 3) Sagrada Família; 4) Tower Bridge; 5) Pompeje;
6) Brandenburská brána; 7) Malá mořská víla; 8) Prátr; 9) Atomium; 10) Volendam; 11) Říšský dóm; 12) Parthenon
- Státy EU:
1. Vídeň bb); 2. Brusel p); 3. Sofia n); 4. Nikósie q); 5. Záhřeb r); 6. Praha b); 7. Kodaň i); 8. Talinn s);
9. Helsinky l); 10. Paříž t); 11. Berlín d); 12. Atény h); 13. Budapešť u); 14. Dublin k); 15. Řím g);
16. Riga w); 17. Vilnius v); 18. Lucemburk x); 19. Valetta y); 20. Amsterdam e); 21. Varšava aa);
22. Lisabon j); 23. Bukurešť z); 24. Bratislava f); 25. Lublaň o); 26. Madrid a); 27. Stockholm c);
28. Londýn m)

EUROPE DIRECT JIHLAVA

Úkolem Europe Direct Jihlava (ED Jihlava) je šířit povědomí a informace o Evropské unii a aktivně podporovat diskuzi o jejích aktivitách na místní a regionální úrovni. Celoevropská informační síť ED, k níž ED Jihlava patří, zastává funkci prostředníka mezi Evropskou unií a jejími občany v regionech – snaží se přiblížit evropské instituce občanům a zároveň poskytuje orgánům EU zpětnou vazbu jaká témata místní občany zajímají.

Střediska ED jsou koordinována a spolufinancována Evropskou komisí a tzv. hostitelskou organizací, kterou se na základě výběrového řízení stala Regionální rozvojová agentura Vysočina.

Co Vám ED Jihlava konkrétně nabízí?

Služby střediska jsou pro veřejnost zdarma.



- ★ Informace o Evropské unii.
- ★ Informace o práci a studiu v zemích EU.
- ★ Informace o možnostech financování ze zdrojů EU.
- ★ Informace o volbách do Evropského parlamentu.
- ★ Zajišťování kontaktních údajů na organizace, se kterými potřebujete jednat.
- ★ Přístup k internetu za účelem vyhledávání informací o EU.
- ★ Vybrané publikace o EU zdarma.
- ★ Vydávání měsíčního elektronického zpravodaje.
- ★ Možnost studia materiálů o EU z knihovny EUROPE DIRECT Jihlava.
- ★ Pořádání různých akcí a seminářů.

Více informací o činnosti a akcích ED Jihlava naleznete v měsíčním elektronickém Evropském zpravodaji informační síť Europe Direct.

Zasílání zpravodaje si můžete objednat na e-mailové adrese europe.direct@rrav.cz.



EUROPE DIRECT Jihlava
Regionální rozvojová agentura Vysočina, Matky Boží 1182/9, 586 01 Jihlava
tel.: 731 447 172, e-mail: europe.direct@rrav.cz, www.europe-direct.cz
centrální bezplatná linka: 00 800 6 7 8 9 10 11

vydalo: Europe Direct Jihlava; 12/2015

© RRA Vysočina z.s.p.o.

Matky Boží 1182/9, 586 01 Jihlava

www.rrav.cz



Evropská komise neodpovídá za použití informací, jež tato publikace obsahuje.
Tato publikace neprošla redakční jazykovou úpravou.

Neprodejná publikace